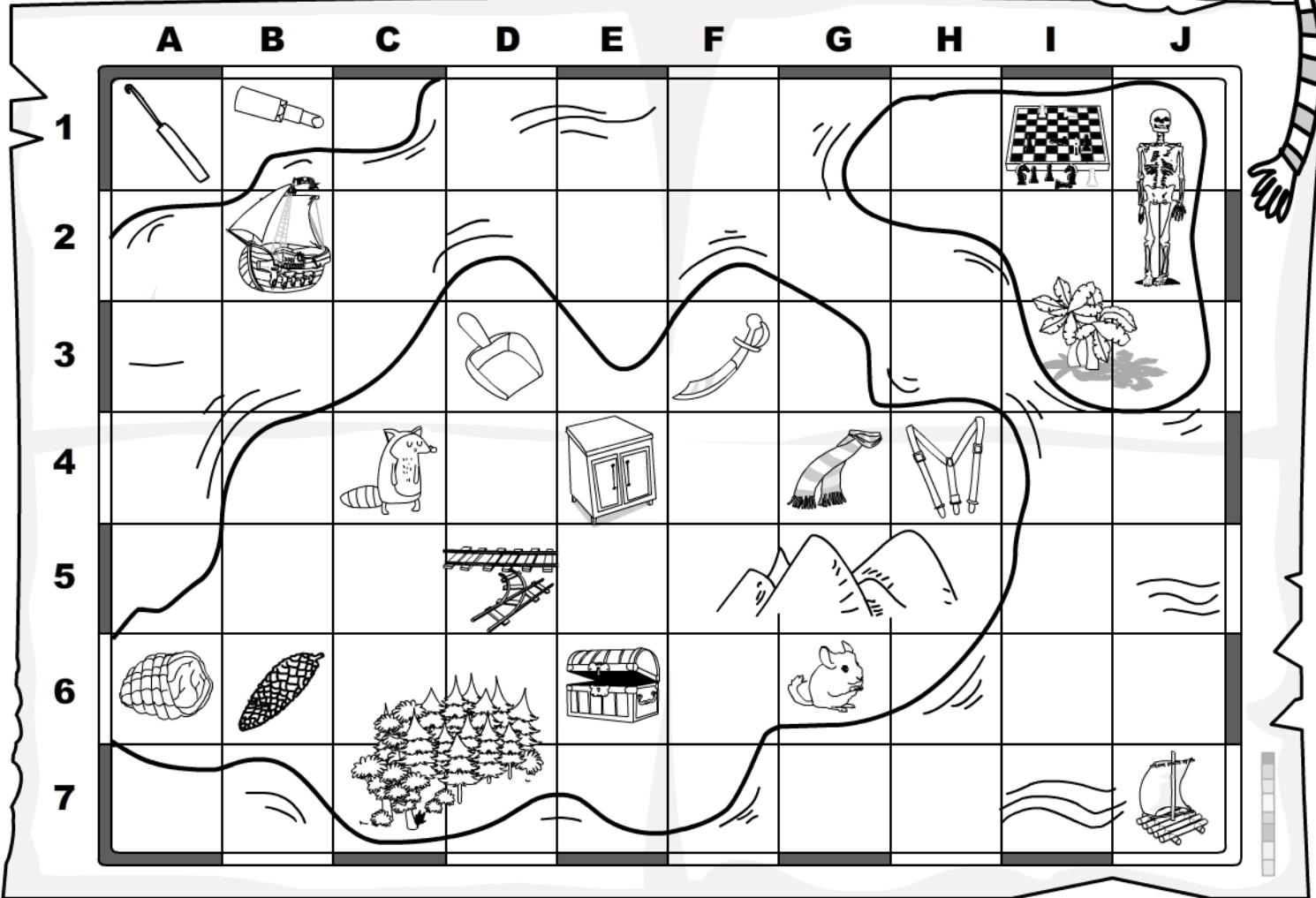


Odszukaj na mapie wypisane elementy i wpisz ich pozycję opisaną w poziomie cyfrą a w pionie literą.



szafka -

szop -

szynka -

szufelka -

szynszyla -

szminka -

szachy -

szalik -

szabla -

szyszka -

szydełko -

szelki -

szkielet -

szyny -



Odszukaj na mapie wskazane elementy i wpisz ich pozycję opisaną w poziomie cyfrą, a w pionie literą.



	A	B	C	D	E	F	G	H	I	J
1										
2										
3										
4										
5										
6										
7										



.....



.....




.....



.....



.....



.....



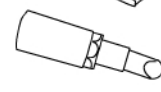
.....



.....



.....



.....



.....



.....



.....



.....



Odszukaj na mapie elementy oznaczone w poziomie cyfrą, a w pionie literą i wpisz ich nazwy.



	A	B	C	D	E	F	G	H	I	J
1										
2										
3										
4										
5										
6										
7										

E4 -

C4 -

A6 -

D3 -

G6 -

B1 -

I1 -

G4 -

F3 -


B6 -

A1 -

H4 -

J1, J2 -

D5 -



1 SZ

